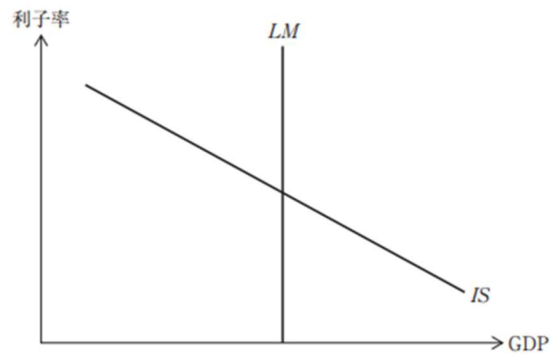


SHEET13 IS-LM 分析

レベル 1

R3 第 6 問(設問 1,2)

下図は、IS 曲線と LM 曲線を描いている。この図に基づいて、下記の設問に答えよ。



(設問 1)

LM 曲線が垂直になる例として、最も適切なものはどれか。

- ア 貨幣需要の利子弾力性がゼロである。
- イ 貨幣需要の利子弾力性が無限大である。
- ウ 投資需要の利子弾力性がゼロである。
- エ 投資需要の利子弾力性が無限大である。

(設問 2)

LM 曲線が垂直であるときの財政政策と金融政策の効果に関する記述として、最も適切な組み合わせを下記の解答群から選べ。なお、ここでは物価水準が一定の短期的な効果を考えるものとする。

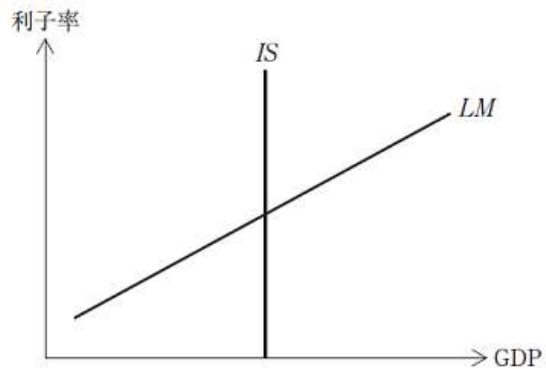
- a 政府支出を増加させると、完全なクラウディング・アウトが発生する。
- b 政府支出を増加させると、利子率の上昇を通じた投資支出の減少が生じるが、GDP は増加する。
- c 貨幣供給を増加させると、利子率の低下を通じた投資支出の増加が生じるが、GDP は不変である。
- d 貨幣供給を増加させると、利子率の低下を通じた投資支出の増加によって、GDP は増加する。

[解答群]

- ア a と c
- イ a と d
- ウ b と c
- エ b と d

R2 第6問(設問1,2)

下図は、IS曲線とLM曲線を描いたものである。この図に基づいて、下記の設問に答えよ。



(設問1)

IS曲線が垂直になる例として、最も適切なものはどれか。

- ア 貨幣需要の利子弾力性がゼロである。
- イ 貨幣需要の利子弾力性が無限大である。
- ウ 投資需要の利子弾力性がゼロである。
- エ 投資需要の利子弾力性が無限大である。

(設問2)

IS曲線が垂直であるときの財政政策と金融政策の効果に関する記述として、最も適切なものの組み合わせを下記の解答群から選べ。

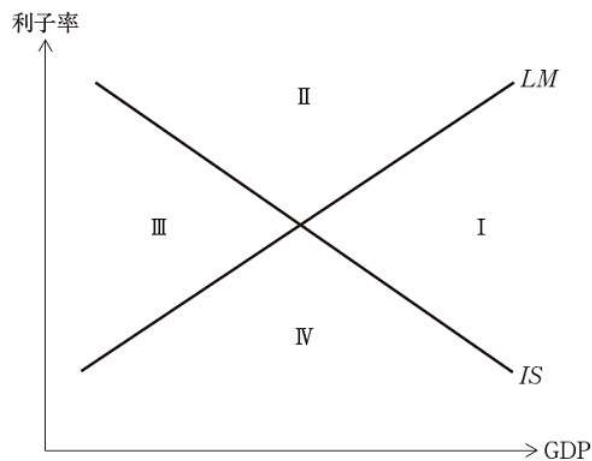
- a 金融緩和政策は、LM曲線を右方にシフトさせる。これによって利子率が低下するが、投資が増加しないため、GDPは増加しない。
- b 金融緩和政策は、LM曲線を右方にシフトさせる。これによって利子率が低下し、投資が増加するため、GDPは増加する。
- c 政府支出の増加は、IS曲線を右方にシフトさせる。このとき、利子率は上昇するが、クラウディング・アウトは発生せず、GDPは増加する。
- d 政府支出の増加は、IS曲線を右方にシフトさせる。このとき、利子率が上昇し、投資が減少するが、GDPは増加する。

〔解答群〕

- ア aとc
- イ aとd
- ウ bとc
- エ bとd

H29 第9問(設問1)

下図は、IS 曲線と LM 曲線を描いている。この図に基づいて、下記の設問に答えよ。



(設問1)

IS 曲線、LM 曲線は、それぞれ生産物市場と貨幣市場を均衡させる GDP と利子率の関係を表している。下記の記述のうち、最も適切なものはどれか。

- ア I の領域では、生産物市場が超過需要であり、貨幣市場が超過供給である。
- イ II の領域では、生産物市場と貨幣市場がともに超過供給である。
- ウ III の領域では、生産物市場と貨幣市場がともに超過需要である。
- エ IV の領域では、生産物市場が超過供給であり、貨幣市場が超過需要である。

H28 第10問

財政制度の改正にはそれぞれの目的があるが、これは同時に、財政のビルトイン・スタビライザーの機能にも影響する。財政のビルトイン・スタビライザーの機能に関する記述として、最も適切なものの組み合わせを下記の解答群から選べ。

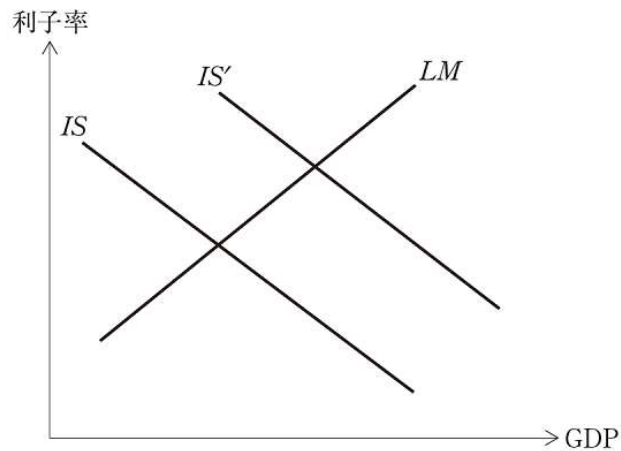
- a 子育て支援における低所得者向けの給付の拡充は、ビルトイン・スタビライザーの機能を低下させる。
- b 所得税における最高税率の引き上げは、ビルトイン・スタビライザーの機能を高める。
- c 生活保護における生活扶助費の引き下げは、ビルトイン・スタビライザーの機能を高める。
- d 失業者に対する失業給付の拡充は、ビルトイン・スタビライザーの機能を高める。

[解答群]

- ア aとc    イ aとd    ウ bとc    エ bとd

H28 第 11 問（設問 1, 2）

財政・金融政策の効果を理解するためには、IS-LM 分析が便利である。IS 曲線と LM 曲線が下図のように描かれている。下記の設問に答えよ。



（設問 1）

IS 曲線と LM 曲線の傾きに関する説明として、最も適切なものはどれか。

- ア IS 曲線は、限界消費性向が大きいほど、より緩やかに描かれる。
- イ LM 曲線は、貨幣の利子弾力性が小さいほど、より緩やかに描かれる。
- ウ 利子率が高くなるほど貨幣需要が拡大すると考えており、したがって LM 曲線は右上がりとなる。
- エ 利子率が高くなるほど投資需要が拡大すると考えており、したがって IS 曲線は右下がりとなる。

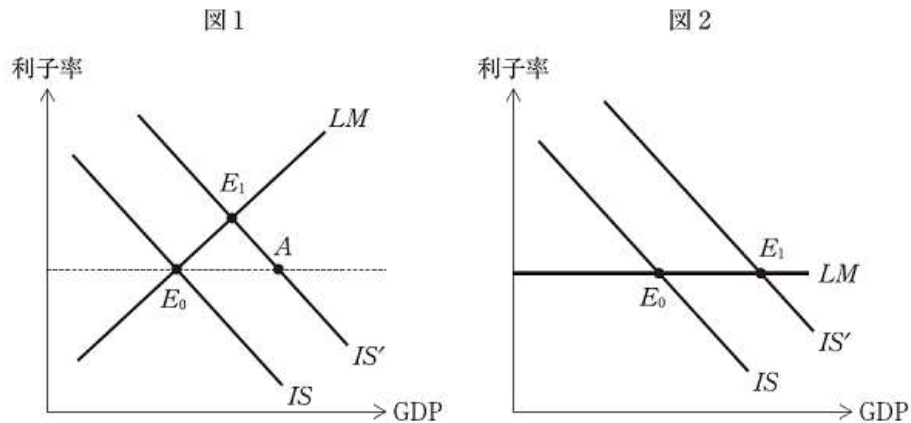
（設問 2）

IS 曲線を IS から IS' へとシフトさせる要因として、最も適切なものはどれか。

- ア 外国人観光客の増加による消費の増加
- イ 歳出削減による財政健全化
- ウ 量的緩和策によるマネタリーベースの増加
- エ 老後の生活に備えるための貯蓄の増加

H26 第5問

以下の2つの図は、標準的なIS-LM分析の図である。両図において、初期状態がISとLMの交点である $E_0$ として与えられている。政府支出の増加によってISが $IS'$ に変化したとき、以下の両図に関する説明として最も適切なものを下記の解答群から選べ。



[解答群]

- ア 図1が示すところによれば、政府支出の増加による総需要刺激効果は、クラウディング・アウトによって完全に相殺されている。
- イ 図1で点Aから点 $E_1$ までの動きは、「流動性の罠」と呼ばれる状況が生じていることを示している。
- ウ 図1で点 $E_0$ から点Aまでの動きは、政府支出の増加によるクラウディング・アウトの効果を示している。
- エ 図2では、政府支出の増加によって利子率が上昇することを示している。
- オ 図2では、政府支出の増加によるクラウディング・アウトは発生していない。

H24 第9問

IS-LMモデルでは、横軸にGDP、縦軸に利子率を取り、IS曲線とLM曲線を描く。IS曲線とLM曲線の形状とシフトに関する説明として、最も適切なものはどれか。

- ア GDPが増えると貨幣の取引需要も大きくなることから、貨幣市場の均衡利子率は低くなり、LM曲線は右上がりに描かれる。
- イ 貨幣供給量を増やすと、貨幣市場を均衡させる利子率が低下することから、LM曲線は上方向にシフトする。
- ウ 政府支出を拡大させると、生産物の供給も拡大することから、IS曲線は右方向にシフトする。
- エ 利子率が高い水準にあると投資水準も高くなると考えられることから、生産物市場の均衡を表すIS曲線は、右下がりに描かれる。
- オ 流動性のわなが存在する場合、貨幣需要の利子弾力性がゼロになり、LM曲線は水平になる。

レベル2

R1 第8問(設問2)

「流動性のわな」の状況下における財政政策と金融政策の効果と有効性に関する記述として、最も適切なものの組み合わせを下記の解答群から選べ。

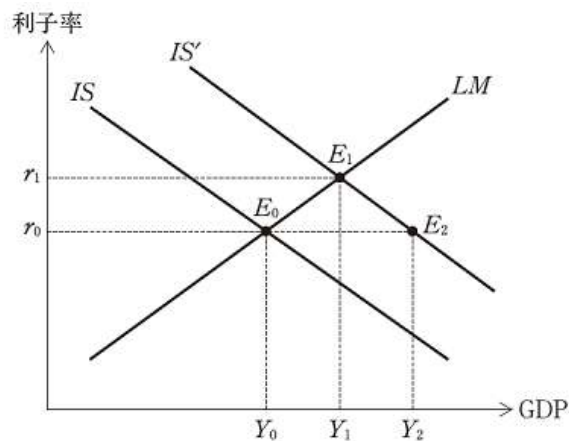
- a 政府支出を増加させても、クラウディング・アウトによって総需要は不変である。したがって、物価水準も実質 GDP も当初の水準から変化しない。
- b 政府支出の増加は、総需要を拡大させる。その結果、物価水準が上昇し、実質 GDP も増加する。
- c 名目貨幣供給の増加は、総需要を変化させない。したがって、物価水準も実質 GDP も当初の水準から変化しない。
- d 名目貨幣供給の増加は、総需要を拡大させる。その結果、物価水準が上昇し、実質 GDP も増加する。

[解答群]

- ア aとc      イ aとd      ウ bとc      エ bとd

H27 第6問

拡張的な財政政策、たとえば政府支出の拡大は、下図の IS 曲線を IS' へとシフトさせる。ただし、Y は GDP、r は利子率である。下図に関する説明として、最も適切なものの組み合わせを下記の解答群から選べ。



- a 政府支出拡大の結果、利子率の上昇によって投資が減少するため、GDP は Y<sub>1</sub> となる。
- b E<sub>2</sub> では、貨幣市場において、貨幣の超過供給が発生している。
- c 「r<sub>1</sub> - r<sub>0</sub>」で表される利子率の上昇は、政府支出拡大による、貨幣の取引需要増加の結果生じた。
- d 「Y<sub>1</sub> - Y<sub>0</sub>」が政府支出の拡大分に相当する。

[解答群]

- ア aとc      イ aとd      ウ bとc      エ bとd

H25 第7問

政府支出の増加が持つ有効需要創出効果がないケース、あるいは有効需要創出効果が弱められるケースの説明として、最も適切なものの組み合わせを下記の解答群から選べ。

- a 政府支出の増加が公債発行によってまかなわれると、債券市場で超過需要が発生することから、利率が上昇し、民間投資が抑えられる。
- b 在庫が存在する場合には、政府支出の増加に対して、財貨・サービスの供給を、在庫の取り崩しによって対応する。
- c 政府支出の増加によって、以前は民間によって供給されていた財貨・サービスを、政府が民間に代わって供給する。
- d 政府支出の増加によって、貨幣の取引需要が減少し、利率が上昇することで、民間投資が抑えられる。

〔解答群〕

- ア aとb
- イ aとc
- ウ bとc
- エ cとd

解答

SHEET13 IS-LM 分析			
レベル 1	R3	6(1)	ア
	R3	6(2)	イ
	R2	6(1)	ウ
	R2	6(2)	ア
	H29	9(1)	イ
	H28	10	エ
	H28	11(1)	ア
	H28	11(2)	ア
	H26	5	オ
	H24	9	ウ
レベル 2	R1	8(2)	ウ
	H27	6	ア
	H25	7	ウ